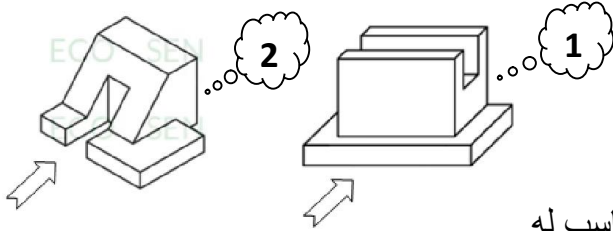
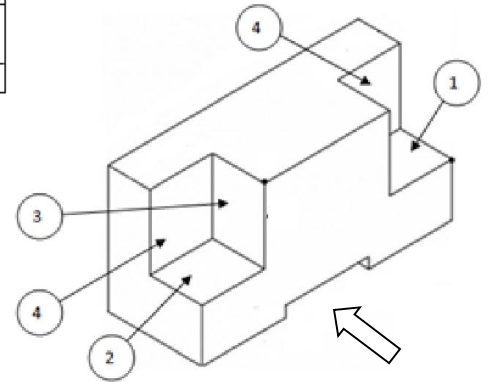
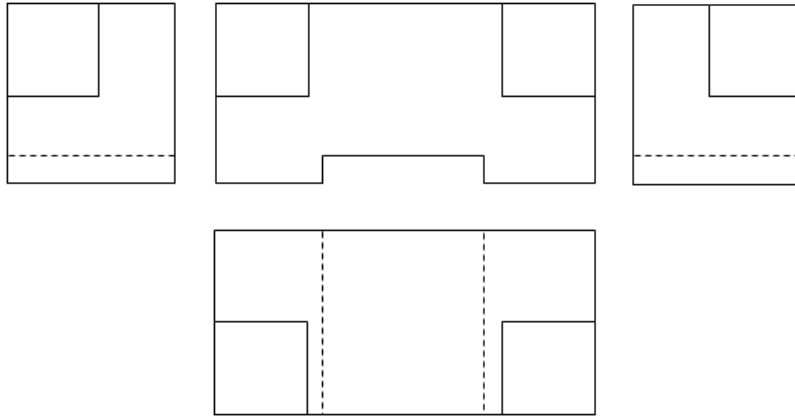


تمرين عدد 1

1. اعتمادا على الرسم المنظوري للقطعة قم بتزقيم المساحات 1-2-3-4-5 في المساقط المطروحة



2. أكمل في الجدول التالي اسم المسقط و رقم القطعة المناسب له

مسقط للقطعة رقم.....	مسقط للقطعة رقم.....	مسقط للقطعة رقم.....
مسقط للقطعة رقم.....	مسقط للقطعة رقم.....	مسقط للقطعة رقم.....

تمرين عدد 2

اكمل رسم المساقط للقطعة التالية

